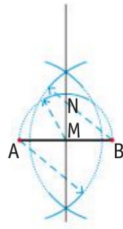
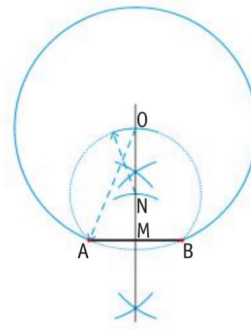


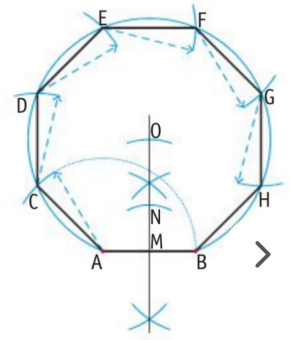
4. Ottagono



- Traccia il segmento AB, pari al lato.
- Traccia la perpendicolare che lo divide a metà in M.
- Con apertura \overline{AM} punta in M e traccia un arco che interseca la perpendicolare



- al segmento in N.
- Punta in N e, con apertura \overline{AN} , traccia un arco che interseca in O.
- Con apertura \overline{OA} punta in O e traccia un arco da A fino a B.



- Con apertura \overline{AB} riporta sull'arco la misura a parti da A, ripetendola fino ad arrivare a B.
- Unisci A, C, D, E, F, G, H, e B.

